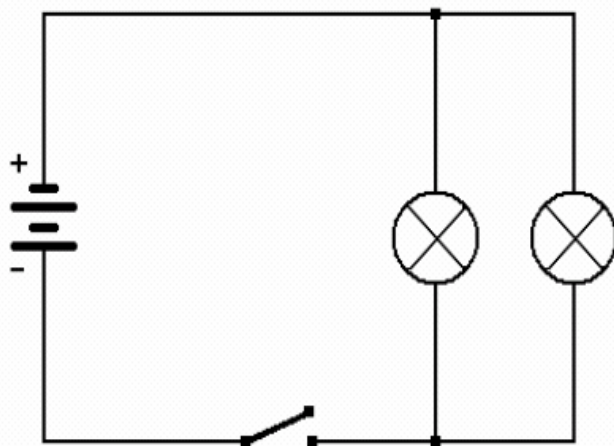


ESERCIZI SUI CIRCUITI

Circuito con Lampadine Collegate in Parallelo




Come si presenta la luminosità della lampadine rispetto al primo circuito ?

.....

Se si svita una delle due lampadine cosa succede ?

.....

Circuito con Interruttori in Serie



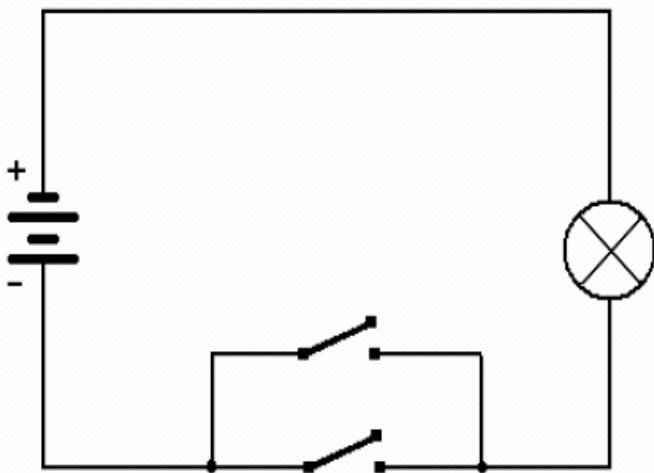
Quale è la condizione per accendere la luce ?

.....

Quale è la condizione per spegnere la lampadina ?

.....

Circuito con Interruttori in Parallelo



Quale è la condizione per accendere la luce ?

.....

Quale è la condizione per spegnere la lampadina ?

.....