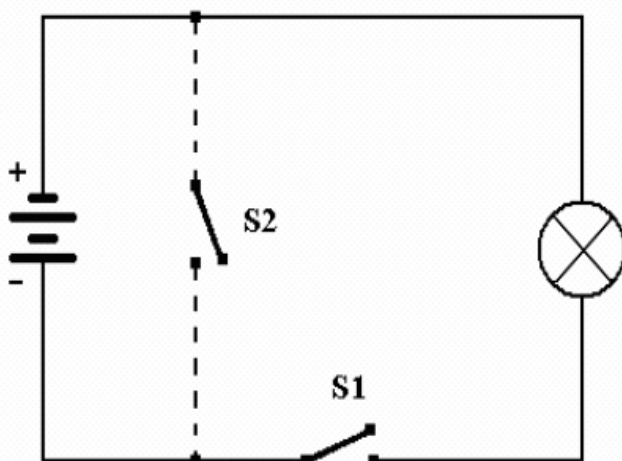


ESERCIZI SUI CIRCUITI

Circuito Semplice – Corto Circuito




Se si aziona l'interruttore S1 che cosa succede:

.....

Cosa succede se si collega e si chiude l'interruttore S2 ?

.....

Circuito con Pile Collegate in Serie



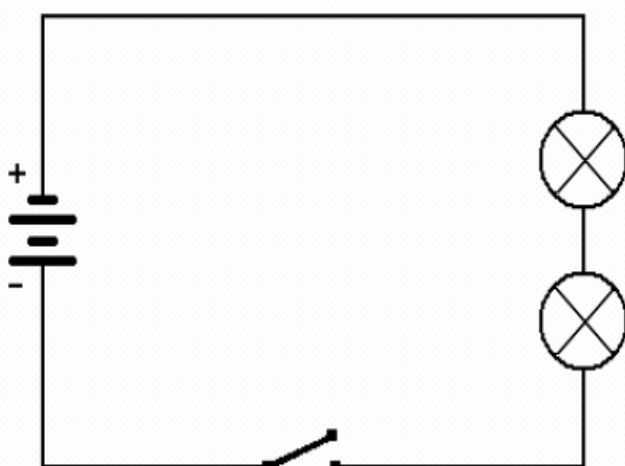
Se si aziona l'interruttore che cosa succede:

.....

Come si presenta la luminosità della lampadina della rispetto al circuito precedente ?

.....

Circuito con Lampadine Collegate in Serie



Come si presenta la luminosità della lampadine rispetto al primo circuito ?

.....

Se si svita una delle due lampadine cosa succede ?

.....